

FIUMI

Il corso di un fiume si divide in due parti principali:

- ALTO CORSO del FIUME;
- BASSO CORSO del FIUME.

ALTO CORSO del FIUME si trova in **ALTA MONTAGNA** vicino a dove sorge (nasce) il fiume.

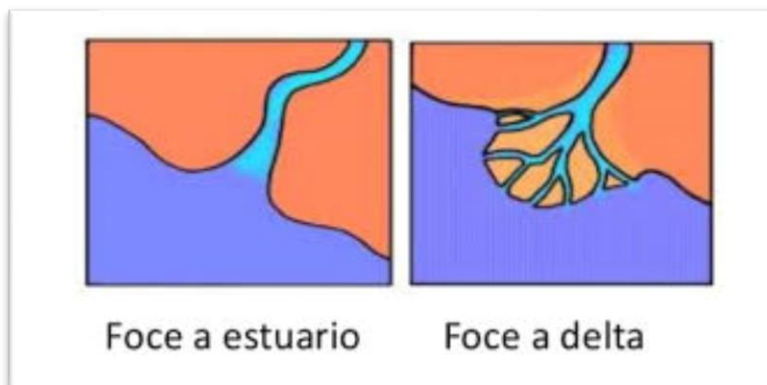
BASSO CORSO del FIUME si trova in **PIANURA** vicino a dove il fiume arriva al mare. Il punto dove il fiume arriva al mare si chiama FOCE.

SORGENTE: punto dove un fiume nasce.

FOCE: dove il fiume arriva al mare.

La **FOCE** può essere di due tipi:

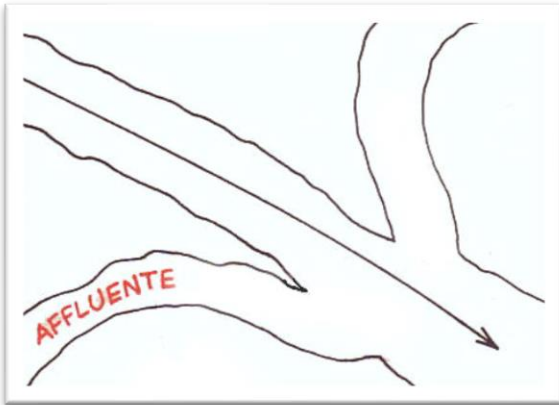
- **FOCE a DELTA** quando il fiume arrivando al mare si divide in tanti piccoli fiumi (vedi immagine);
- **FOCE a ESTUARIO** quando il fiume arrivando al mare NON si divide ma si getta direttamente nel mare (vedi immagine).



Il fiume riceve acqua da:

- pioggia;
- ghiacciai che si sciolgono;
- altri fiumi che si chiamano **AFFLUENTI**.

Gli **AFFLUENTI** sono fiumi che gettano le proprie acque in un altro fiume (guarda l'immagine qui sotto).



Le curve di un fiume si chiamano **ANSE**.

L'area dove scorre l'acqua del fiume si chiama **LETTO del fiume** (se tu entri in un fiume, magari per fare il bagno, in quel momento sei nel letto del fiume; se cerchi di attraversare a piedi un fiume, quando ci sei dentro ti trovi nel letto del fiume).

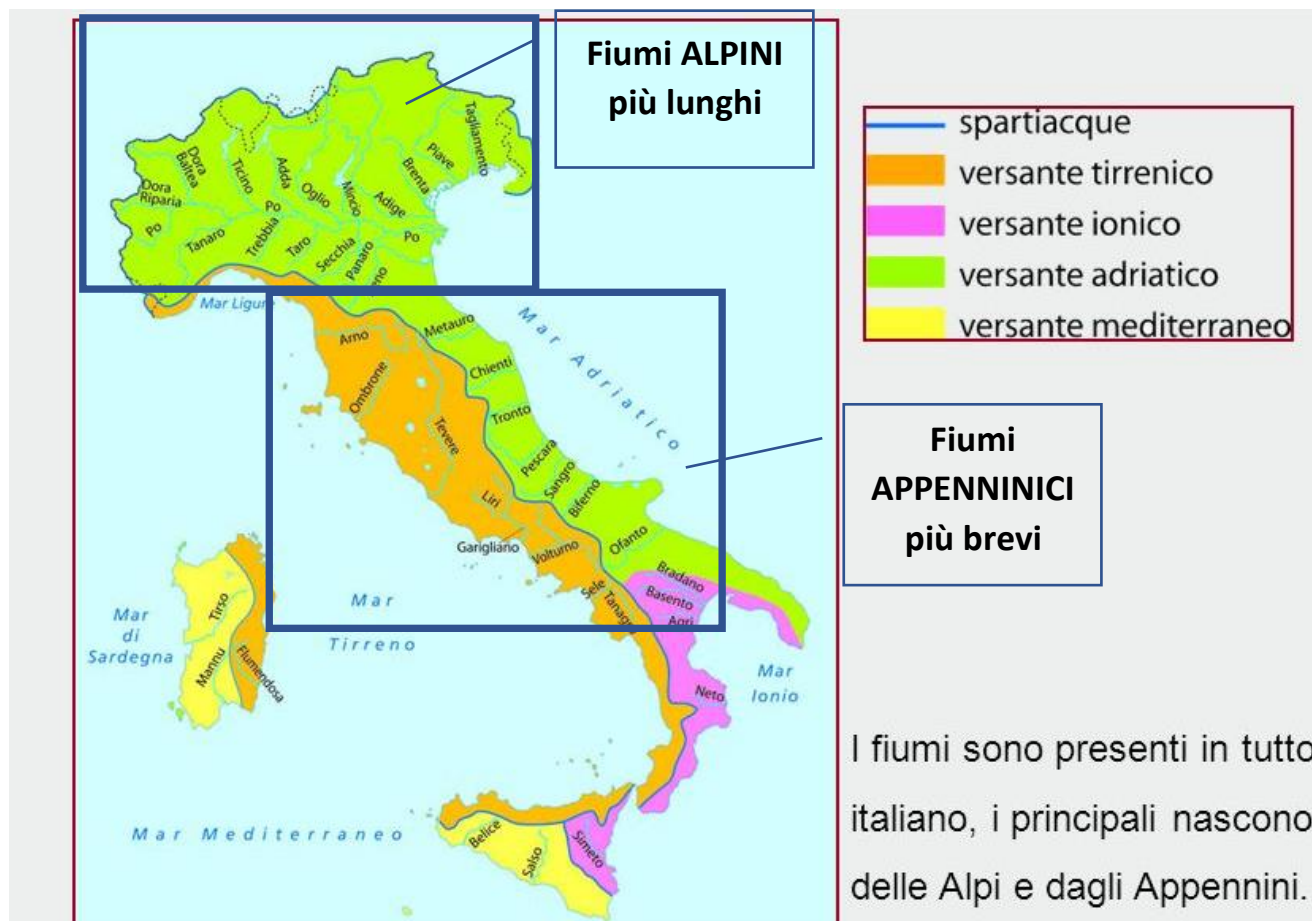
I Fiumi italiani più importanti sono i seguenti (le caratteristiche più importanti sono sottolineate):

1. **fiume PO** che nasce (sorge) in PIEMONTE e sfocia, si getta nel mare, in VENETO con una foce a delta. Il fiume PO attraversa tutta la **PIANURA PADANA**.
2. **fiume ADIGE** che passa per le Regioni del TRENTINO ALTO ADIGE e del **VENETO**.
3. **Fiume PIAVE** che scorre nella Regione VENETO.
4. **fiume TEVERE** in centro-Italia che passa per la capitale ROMA.
5. **fiume ARNO** in centro-Italia che passa per la città di FIRENZE.

I fiumi che scendono dalle ALPI sono ricchi di acqua e non hanno **mai periodi di secca** (assenza di acqua, fiume del tutto secco).

I fiumi della Sicilia e della Sardegna hanno **spesso periodi di secca**, soprattutto quando fa più caldo, quindi in Estate.

I fiumi che scendono dagli APPENNINI sono più corti dei fiumi alpini perché il percorso dagli APPENNINI al mare è breve (prova a guardare l'immagine qui sotto).



I fiumi della Regione LIGURIA sono brevissimi perché la regione LIGURIA è molto stretta e il percorso verso il mare è brevissimo.

QUESTIONARIO (da rispondere per iscritto sul quaderno)

1. Come si chiamano le due parti in cui si divide un fiume? (1 pt)
2. Cosa è la sorgente di un fiume? (1 pt)
3. Cosa è la foce di un fiume? (1 pt)
4. Come si chiamano e come sono fatte le due foci del fiume che conosci? (4 pt)
5. Cosa sono gli affluenti? (1 pt)
6. Come si chiamano le curve di un fiume? (1 pt)
7. Come si chiama l'area dove scorre il fiume? (1 pt)
8. Da dove riceve acqua un fiume (tre risposte)? (1 pt)
9. Quali sono i cinque fiumi più importanti d'Italia? (2 pt se tutto giusto, 1 pt se te ne ricordi solo 4, altrimenti nessun punto perché sono importanti e li devi ricordare tutti)
10. Per ogni fiume importante che hai detto nella domanda precedente devi dire tutte le sue caratteristiche, che ti ricordi (8 pt)
11. Caratteristiche dei fiumi Alpini (2 pt)
12. Caratteristiche dei fiumi Appenninici (1 pt)
13. Caratteristiche dei fiumi della Sardegna e della Sicilia (1 pt)
14. Caratteristiche dei fiumi della Liguria (1 pt)

Totale: /26

%

Voto: